


基本問題



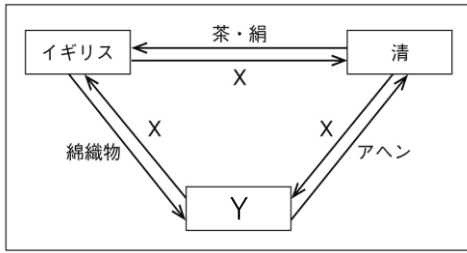
- ① 右の資料で描かれた、イギリスと清との間で1840年に起きた戦争を何というか。
- ② ①の戦争の後、イギリスと清との間で結ばれた条約を何というか。
- ③ 1857年、インドで起こったイギリスに対する反乱を何というか。
- ④ プロイセン王国の首相として、経済力や軍事力を強化することで1871年にドイツ帝国を成立させ、鉄血宰相といわれた人物はだれか。
- ⑤ 1825年に、外国船がしきりに日本の沿岸に近づくことを警戒した幕府が出した命令を何というか。
- ⑥ 1837年に大阪で、大阪町奉行所の元役人が「救民」をかかげて役所や豪商を襲った。この反乱をおこした指導者はだれか。
- ⑦ 1841年に老中となり、幕府政治を立て直すための改革を進めた人物はだれか。
- ⑧ ⑦の人物によって行われた改革は何とよばれるか。
- ⑨ 1853年に浦賀に来航した、アメリカの東インド艦隊司令長官であった右の人物はだれか。
- ⑩ 1854年、アメリカと日本との間で結ばれた条約を何というか。
- ⑪ ⑩の条約の締結後、日本が開港したのはどことどこか、2つ書きなさい。
- ⑫ 1858年、朝廷の許可を得ずに幕府の判断でアメリカとの間で新たに条約を結んだ。その条約を何というか。
- ⑬ ⑫の条約を結んだ時の江戸幕府の大老はだれか。
- ⑭ ⑫の条約で日本が開港したところを5つ書きなさい。
- ⑮ 天皇を尊び、外国人を追い払おうとする考え方を何というか。
- ⑯ ⑬の人物は、幕府に反対した大名や公家、思想家など多くの人々を処罰した。この弾圧は何とよばれるか。
- ⑰ 1860年、⑬の人物が暗殺された事件は何とよばれるか。
- ⑱ アメリカでは南部の州と北部の州との間で対立が深まり、1861年に内戦が起こった。この内戦を何というか。
- ⑲ ⑱の内戦で、北部側を率いて勝利したときの大統領はだれか。




①	アヘン戦争	②	南京条約	③	インド大反乱	④	ビスマルク
⑤	異国船打払令	⑥	大塩平八郎	⑦	水野忠邦	⑧	天保の改革
⑨	ペリー	⑩	日米和親条約	⑪	下田 と 函館 <small>順不同</small>	⑫	日米修好通商条約
⑬	井伊直弼	⑭	函館、神奈川(横浜)、長崎、新潟、兵庫(神戸) <small>順不同</small>	⑮		⑯	尊王攘夷
⑰	安政の大獄	⑱	桜田門外の変	⑲	南北戦争	⑲	リンカーン

発展問題


資料1 (19世紀における貿易)



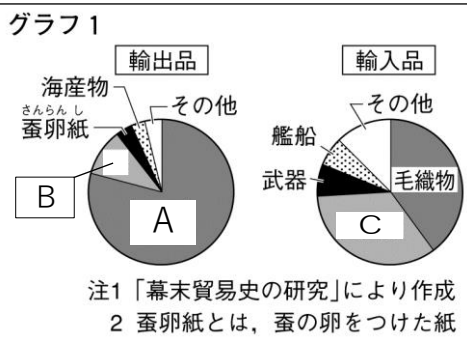
資料2



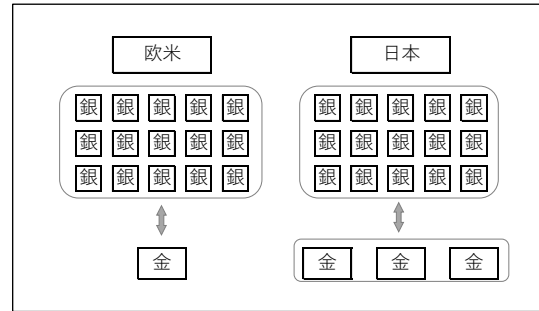
資料3(開国後の日本の輸入総額に占める国別割合)



資料4 (幕末の貿易)



資料5 (欧米と日本における金と銀の交換比率のイメージ)



- ① 資料1中のXにあてはまるもの何か。また、Yにあてはまる国はどこか、それぞれ書きなさい。
- ② 資料1にある三か国の間の貿易は何とよばれるか。
- ③ 資料2はアヘン戦争を描いたものである。資料2中AとBで、イギリスの船であるのはどちらか、記号で答えなさい。また、そのように判断した理由を、イギリスの船に見られる特徴に触れて簡潔に書きなさい。
- ④ アヘン戦争後、イギリスが清から割譲されて植民地とし、1997年に中国に返還した都市を何というか。
- ⑤ 1837年に起きた大塩平八郎による反乱が、世間の人々を驚かせ、幕府に衝撃を与えた理由を書きなさい。
- ⑥ 天保の改革で、物価の上昇を抑えるために水野忠邦がおこなったことを簡潔に書きなさい。
- ⑦ アメリカが、ペリーを派遣して日本を開国させようとしたのはなぜか、書きなさい。
- ⑧ 1858年に結んだ日米修好通商条約で、日本にとって不平等であった内容を2つ書きなさい。
- ⑨ 資料3にあるように、開国後の日本の主な貿易相手国はアメリカではなくイギリスであった。アメリカが遅れた理由を、アメリカで起きた出来事を含めて書きなさい。
- ⑩ 資料4中のA～Cにあてはまる語をそれぞれ書きなさい。
- ⑪ 開国後、日本の金が大量に流出した理由を、資料5を参考にして「同じ量の銀で」の書き出しに続いて書きなさい。

①	X	銀	Y	インド	②	三角貿易
③	記号	B	理由	(例) Bの船は煙が出ているから。(Bの船は蒸気船だから。)		
④		香港	⑤	(例) 大塩平八郎が幕府(大坂町奉行所)の元役人であったから。		
⑥	(例) 株仲間を解散させた。			⑦	(例) 捕鯨船や貿易船の寄港地としたかったから。	
⑧	(例) 領事裁判権(治外法権)を認めること。			⑧	(例) 日本に関税自主権がないこと。	
⑨	(例) アメリカは、南北戦争の影響によって日本との貿易が困難だったから。					
⑩	A	生糸	B	茶	C	綿織物
⑪	同じ量の銀で (例) 日本では欧米よりも多くの金と交換することができたから。					